

## 2° GUERRE MONDIALE - LE DEBARQUEMENT EN NORMANDIE

Questionnaire accompagnant l'émission « C'est pas sorcier : le débarquement en Normandie »

(site de l'émission : <http://www.france3.fr/emissions/c-est-pas-sorcier> ou <https://www.youtube.com/watch?v=7pRjUrVRgWw>)

Avant l'émission : cherche quelques renseignements

1 Quelles sont les dates de la Seconde Guerre Mondiale ?

1870 -1872

1914 1918

1939-1945

1950-1953 1990-1991

2 La 2° guerre mondiale oppose les pays de l'Axe (Allemagne) et les Alliés.

entoure en vert les pays de l'Axe (Allemagne) et en bleu les Alliés (Royaume Uni)

Les États-Unis

Le Japon

L'URSS (Russie)

La France libre

L'Italie

Le Canada

La Roumanie

L'Australie

3 Complète le paragraphe avec les mots

**suiuants** : (pour t'aider, tu peux utiliser des documents, des sites internet (Wikipédia), le livre d'histoire...)

1939 / Normandie / Adolf Hitler / occupé / Belgique / Nord / quatre / Pays-Bas / signature / libre / défaite / invasion / 1944

En Allemagne, les nazis sont au pouvoir depuis

1933 avec à leur tête le chancelier

.....

La Seconde Guerre mondiale commence par

l'annexion de la Pologne en septembre..... ,

Les Alliés déclarent la guerre à l'Allemagne le 3

septembre. En 1940, l'armée allemande envahit

plusieurs pays d'Europe : la

..... , les ....., le Luxembourg et la France. L'offensive

débute le 10 mai 1940, mettant fin à la « drôle de guerre », et se termine le 22 juin par la

..... des forces armées françaises et la ..... de l'armistice par le

gouvernement Pétain.

Le territoire des ..... pays est alors .....

militairement. La France est partagée en deux zones : une zone occupée par l'Allemagne au .....

et à l'Ouest et une zone ..... sous l'autorité du gouvernement de collaboration de Vichy. La

France et ses voisins seront libérés par les offensives alliées à partir de ..... suite au débarquement qui

a eu lieu en .....

4 Sur la carte de France, entoure la Normandie



Source : [http://fr.wikipedia.org/wiki/Bataille\\_de\\_France](http://fr.wikipedia.org/wiki/Bataille_de_France)

## 2° GUERRE MONDIALE - LE DEBARQUEMENT EN NORMANDIE

Questionnaire accompagnant l'émission « C'est pas sorcier : le débarquement en Normandie »


*Après l'émission :*

### 1 Indique le jour du débarquement sur le calendrier.

- Comment appelle t'on ce jour en anglais ?

.....


Cette année, on commémore le ..... anniversaire du débarquement.



### 2 Quel moyen de communication ont utilisé les Alliés pour annoncer le début du débarquement ? Entoure la bonne réponse.



1. le pigeon voyageur



2. la télévision



3. la radio



4. le journal

### 3 Peux- tu écrire le début du message annonçant le débarquement ? (et pourquoi pas la 2° partie)

.....

### 4 Que font les groupes de résistants quand ils reçoivent le message ?

.....

.....


Les deux hommes interviewés dans l'émission sont d'anciens résistants, ils ont perdu beaucoup d'amis.  
Le chef des résistants français est Charles de Gaulle, il habite à Londres.

**Explique en une phrase ou deux ce qu'est la Résistance et les Résistants et dessine le symbole de la Résistance :**

.....

.....

.....



## 2° GUERRE MONDIALE - LE DEBARQUEMENT EN NORMANDIE

Les forces en oeuvre


5 Reliez :

Des parachutistes

des soldats

un bombardier

un bateau



6 Quels soldats sont arrivés en premier en France ?

.....

.....

7 L'équipement des soldats. Combien de kilos portaient les parachutistes ?

Deux parachutes  
 + des armes  
 + des munitions  
 + un masque à gaz  
 + de la nourriture  
 + un criquet

= .....kg.



8 Sur la carte de Normandie, retrouve la ville de Saint-Mère-Église.

- Mets une croix bleue qui indique où atterrissent les planeurs.

- Mets une croix rouge indiquant où atterrissent les parachutistes.



- Explique le choix du planeur, son avantage ? (Indice : le contraire de bruyant).

Le planeur est.....



9 Qu'ont installé les Allemands pour surveiller et contrôler le trafic des avions ?

.....

.....

## 2° GUERRE MONDIALE - LE DEBARQUEMENT EN NORMANDIE

### 10 Qu'ont fait les Alliés pour brouiller les radars allemands ?

- Ils ont envoyé des morceaux d'aluminium.       Ils sont allés dans les blockhaus.  
 Ils ont bombardé les radars.       Ils n'ont pas utilisé d'appareils électriques.  
 Ils ont envoyé beaucoup de messages en même temps.

### 11 Complétez la phrase avec les nombres indiqués dans l'émission :

« Dommage pour eux, car pendant ce temps-là, en Angleterre, ..... navires de guerre et ..... bateaux de débarquement ont déjà pris la mer. Et ils avancent très vite  
- Et oui, ils ont quitté l'Angleterre la veille au soir, avec à leur bord, ..... soldats».

### 12 Recherche et indique le nom des cinq plages du débarquement ?

1. ....
2. ....
3. ....
4. ....
5. ....



### 10 Vérifie que tu as bien compris (avec l'aide de tes camarades et du maître): Pourquoi les Alliés ont-ils choisi cette date pour le débarquement ? 3 raisons

.....  
.....  
.....  
.....



### 11 Reliez :

- |                                  |   |
|----------------------------------|---|
| 1. Les bombardiers alliés ✎      | ✎ a. le débarquement ne peut avoir lieu que dans le Pas-de-Calais.                        |
| 2. Les Allemands ✎               | ✎ b. avaient inondé une partie de l'arrière-pays pour piéger les parachutistes.           |
| 3. Les parachutistes ✎           | ✎ c. passent à l'action pour détruire les points stratégiques.                            |
| 4. Pour l'état-major allemand, ✎ | ✎ d. qui ont atterri à Sainte-Mère-Église se sont retrouvés nez à nez avec les Allemands. |