

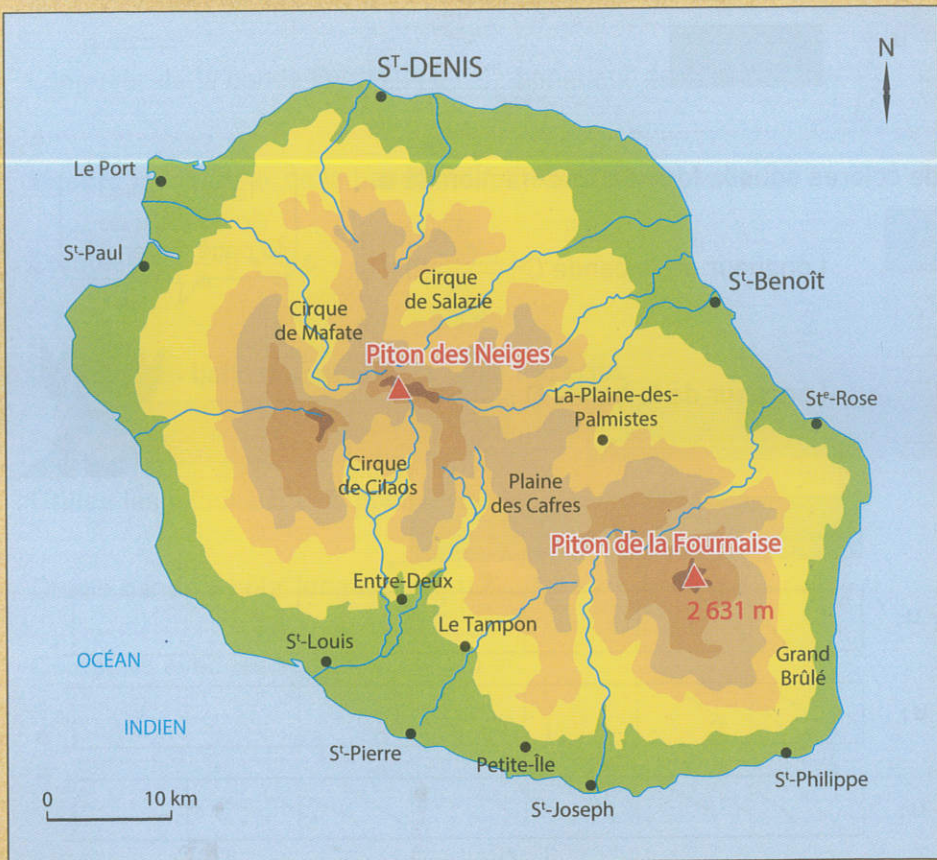
Lundi 8 juin

64 Mobilise tes connaissances ! (3)

La Réunion

La Réunion est une île qui se trouve dans l'océan Indien, dans l'hémisphère Sud. Ce département et région d'outre-mer français est situé à environ 700 km de Madagascar.

COMPÉTENCES :
Prélever des informations à partir de supports variés.
Mobiliser ses connaissances pour résoudre des problèmes.



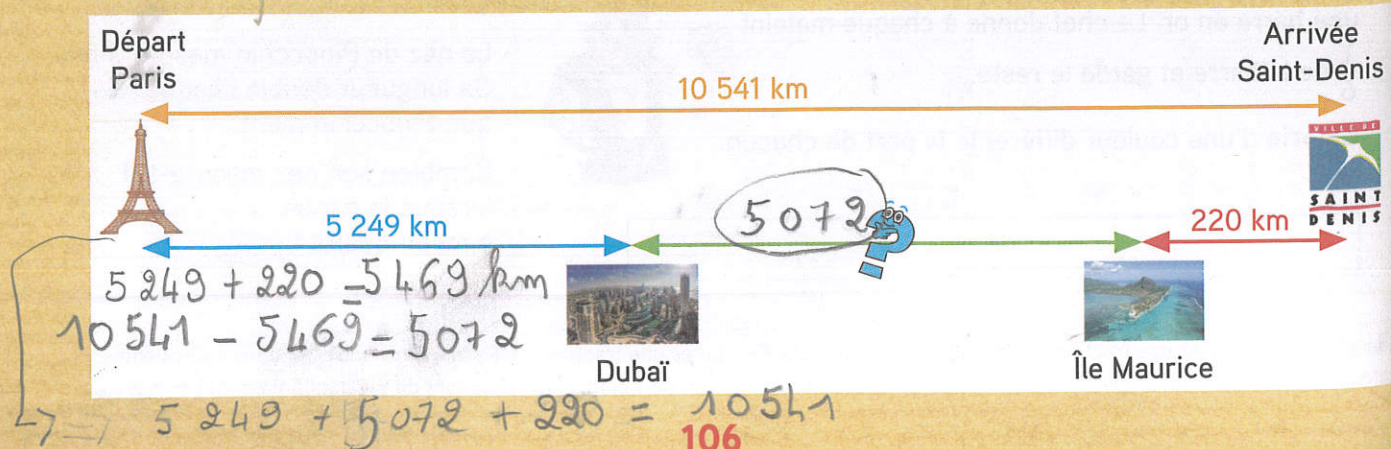
Le piton des Neiges est deux fois plus élevé que le Grand Colombier, situé dans le Jura, qui culmine à 1 535 m.

1. Quelle est l'altitude du piton des Neiges ?
1.535 x 2 = 3.070 m
Est-ce le point culminant de la Réunion ?
 oui non


3070 > 2631 m



2. Observe ce schéma du vol Paris-Saint-Denis avec deux escales. L'une est à Dubaï, l'autre sur l'île Maurice. Calcule la distance entre Dubaï et l'île Maurice.
5072 km



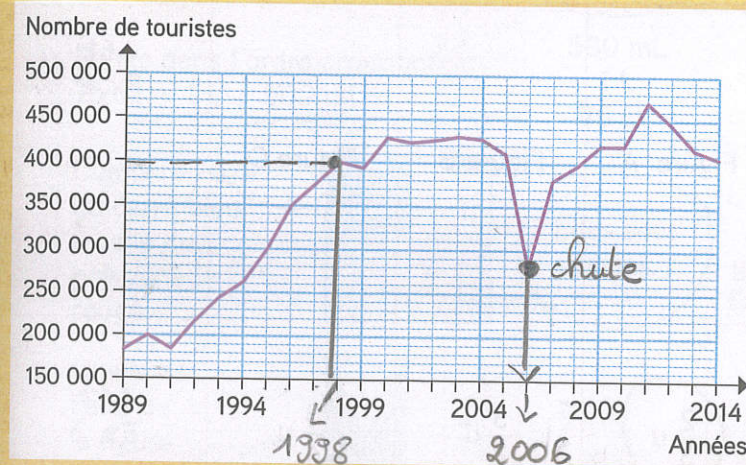
Voici le drapeau de La Réunion.



3. Quelle fraction du drapeau représente la partie rouge ?
1/4



Ce graphique représente l'évolution du nombre de touristes qui ont visité La Réunion depuis 1989.



4. Combien de touristes ont visité La Réunion en 1998 ?
400 000 touristes
En quelle année a eu lieu l'épidémie de chikungunya qui a provoqué la chute brutale du tourisme ?
2006



5. J'ai représenté l'île de La Réunion par un rectangle de 3 carreaux de largeur et 4 carreaux de longueur. Colorie la partie occupée par le volcan.



1 partie sur 4 : 1/4



Le piton de la Fournaise est un volcan très actif, avec au moins une éruption par an. Il couvre un quart de la superficie de l'île.

Paradise Island

- 4 dL de jus de papaye
- 40 cL de jus de mangue
- 1 dL de jus de citron vert
- 5 cL de miel

6. La recette du cocktail « Paradise Island » permet-elle d'obtenir plus ou moins de 1 L de cocktail ?
40 cl + 40 cl + 10 cl + 5 cl = 95 cl = 0,950 L < 1 L

