
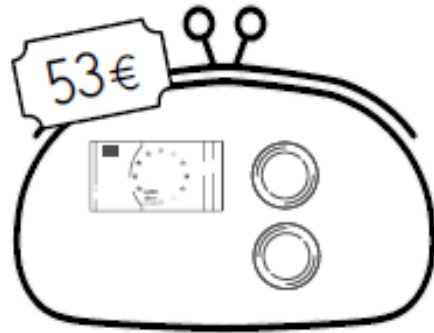
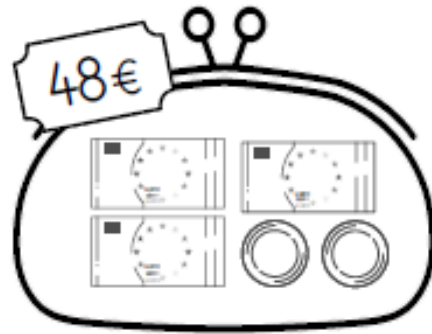
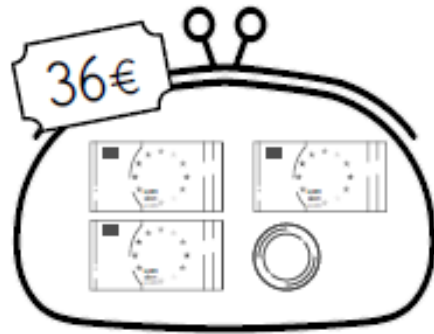
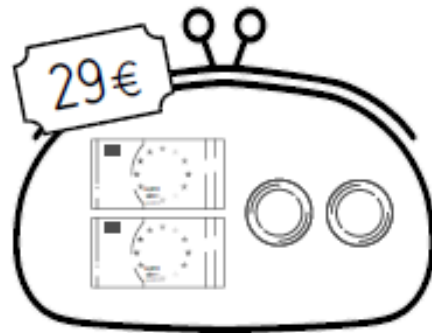
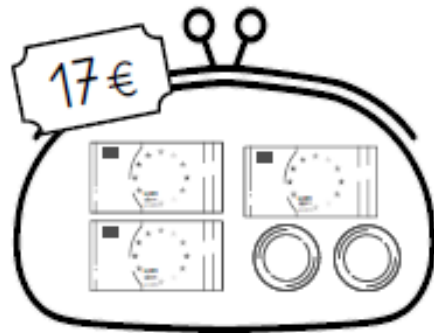


Indique la valeur des pièces et des billets permettant d'obtenir la somme demandée.



Dans chaque ligne, calcule la somme dépensée par chaque enfant. Puis entoure celui des deux qui a dépensé le moins d'argent.

Mila a dépensé .....

Tom a dépensé .....

Léo a dépensé .....

Lilou a dépensé .....

Rémi a dépensé .....

Kim a dépensé .....