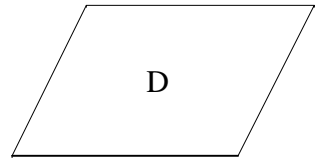
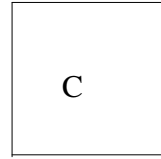
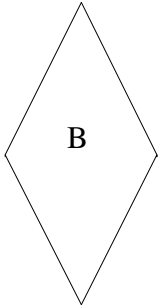



GEOMETRIE	<u>ENTRAINEMENT</u>	TRANSFERT	RECHERCHE	NIVEAU 5
------------------	----------------------------	------------------	------------------	---------------------

Compétences visées : Reconnaître les propriétés des quadrilatères.

Trace les diagonales des quadrilatères et complète le tableau.



	A	B	C	D	E
Côtés opposés égaux	x	x	x	x	x
4 côtés égaux		x	x		
4 angles droits	x		x		
Diagonales égales	x		x		
Diagonales perpendiculaires		x	x		

Fiche n°2	Intitulé : Les figures planes
-----------	-------------------------------

GEOMETRIE	<u>ENTRAINEMENT</u>	TRANSFERT	RECHERCHE	NIVEAU 5
-----------	---------------------	-----------	-----------	-------------

Compétences visées : Reconnaître des quadrilatères dans un agencement de polygones.

Trouve et nomme sur cette figure :

- les deux carrés (ADJM), (NPKM)
- au moins cinq rectangles (ABKM), (BDJK), (DEGJ), (ABPN), (DEFR)
- trois quadrilatères qui ne soient pas des rectangles (CDRQ), (ABPT), (TPKL)
- un quadrilatère qui n'est pas un rectangle mais dont les côtés opposés sont parallèles (ACJL)
- deux trapèzes quelconques (CDRQ), (NTLM), (ABPT), (TPQL)

