



50A


Prénom \_\_\_\_\_

Date \_\_\_\_\_

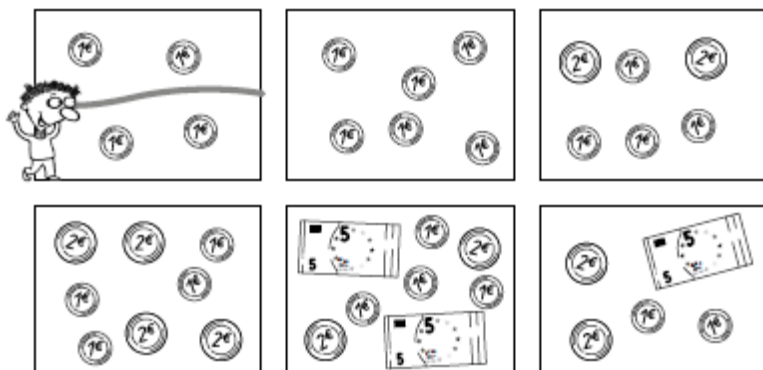
Maths au CP

Nombres  
et calculs

Trace une ligne pour avoir le même nombre de balles de chaque côté quand c'est possible.



Trace une ligne pour avoir la même somme d'argent de chaque côté quand c'est possible.



50B


Prénom \_\_\_\_\_

Date \_\_\_\_\_

Maths au CP

Nombres  
et calculs

Trace une ligne pour avoir la même somme d'argent de chaque côté quand c'est possible.



Complète avec deux fois le même nombre quand c'est possible.

$$4 = 2 + 2$$

$$16 = \dots + \dots$$

$$6 = \dots + \dots$$

$$8 = \dots + \dots$$

$$14 = \dots + \dots$$

$$12 = \dots + \dots$$

$$10 = \dots + \dots$$

$$20 = \dots + \dots$$

$$9 = \dots + \dots$$

