

Les perles


Bonjour à tous,

Vous rappelez-vous les ateliers que nous avons travaillé avec les perles ?

Je vous propose de continuer ce travail à l'aide de photos et de questionnements, vous pouvez être aidé.

Vous aurez besoin d'une ardoise et de toute votre attention (je regarde, j'écoute, je réfléchis...).

C'est parti...



Que représente cette boîte de perles ?

Que représente cette boîte de perles ?

Aides-toi des formes ci-dessous :

Qu'est-ce que je mets dans le triangle ?


Qu'est-ce que je mets dans le carré ?

Comment vous sentez-vous ? Cela se remet en place ? Nous vérifions ensemble...



J'ai 10 perles jaunes et je
forme 1 DIZAINÉ

Je pars de 1 à 9,
(Je t'invite à vérifier,)
Je m'appelle UNITÉ



Bravo, j'étais sûre que vous vous en rappelleriez !!! Nous pouvons donc commencer la séance. Êtes-vous prêts ?

Aujourd'hui nous allons revoir ce que cela produit lorsque je rassemble toutes les perles, et comment s'appelle cette opération... As-tu une petite idée ?

Je rassemble toutes les perles, j'en ai donc une plus grosse quantité, c'est donc...

Oui, une addition !!!

As-tu le matériel nécessaire ? (un velleda, une ardoise, un chiffon) C'est parti...

Cela s'écrit : 1 5


Cela s'écrit : 1 0

Combien as-tu trouvé ?


Cela s'écrit : 2 6

Cela s'écrit : 1 0


Combien as-tu trouvé ?



Combien as-tu trouvé ?



Combien as-tu trouvé ?




Combien as-tu trouvé ?

Maintenant nous allons vérifier ensemble si nous avons trouvé le même résultat...

Peux-tu expliquer ce que tu as fait pour rassembler les perles ? Peut-on rassembler les perles unités et dizaines ?


En effet, tu as rajouté 1 DIZAINE à chaque fois ce qui a fait grandir ton nombre...Tu le verras sur les photos suivantes, les résultats sont écrits en beaucoup plus gros car les nombres trouvés sont beaucoup plus grands...

d u
15 10
+
25




$$\begin{array}{r}
 15 \\
 + 10 \\
 \hline
 = 25
 \end{array}$$

d u
26 10
+
36




$$\begin{array}{r}
 26 \\
 + 10 \\
 \hline
 = 36
 \end{array}$$


d u
37 10
+
47



$$\begin{array}{r}
 37 \\
 + 10 \\
 \hline
 = 47
 \end{array}$$



$$\begin{array}{r}
 48 \\
 + 10 \\
 \hline
 = 58
 \end{array}$$



$$\begin{array}{r}
 59 \\
 + 10 \\
 \hline
 = 69
 \end{array}$$

Et voilà, la séance se termine. Comment s'est-elle passée pour toi ? Prêts à recommencer ?

Bonne fin de journée et à bientôt.

Prenez-soin de vous !!!

Nathalie