



1 - Écris l'heure indiquée sur chaque horloge.



C'est le matin. Il est .....




C'est le soir. Il est .....




C'est l'après-midi. Il est .....


2 - Dessine les aiguilles pour indiquer l'heure sur chaque horloge. Fais attention à la taille des aiguilles!



C'est le matin. Il est 9h.



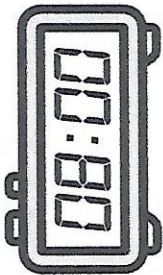
C'est le soir. Il est 22h.



C'est l'après-midi. Il est 15h.


Séance 3

Lire l'heure



8h00

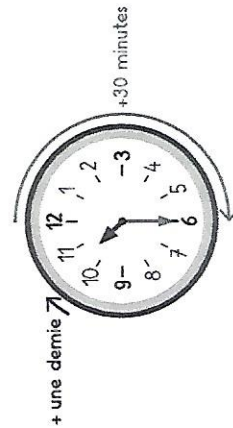
Il est 8 heures.




La petite aiguille indique les heures.  
La grande aiguille indique les minutes.

En une heure, la petite aiguille se déplace d'un chiffre à l'autre pendant que la grande aiguille fait un tour complet du cadran.

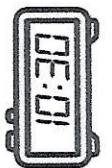
1 heure = 60 minutes  
1 h = 60 min




Il est 10 heures 30 minutes  
ou 10 heures et demie.  
10h30



Il est 10 heures.  
10h00



Il est  
22 heures.



Il est  
5 heures.


Il est  
16 heures.

**06:00**


Il est  
15 heures.

Il est  
10 heures.

Il est midi.



**01:00**






**22:00**



**12:00**

Il est  
6 heures.

**15:00**



Il est  
1 heure.